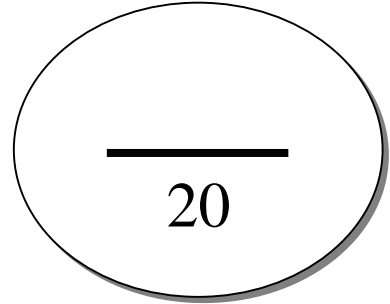


EXAMEN Rattrapage TCD

Nom et Prénom :

.....

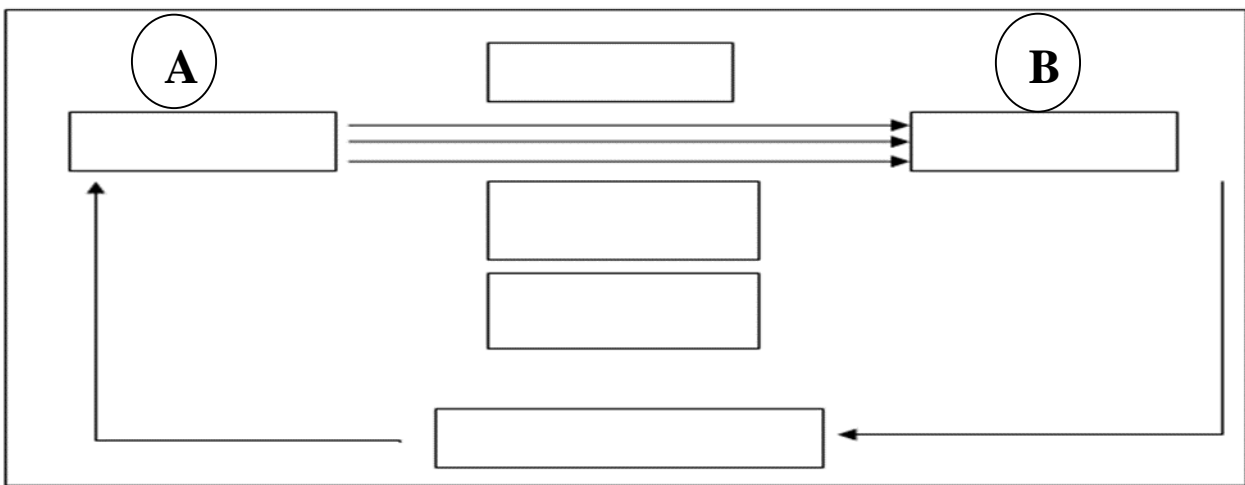
Num-etu :



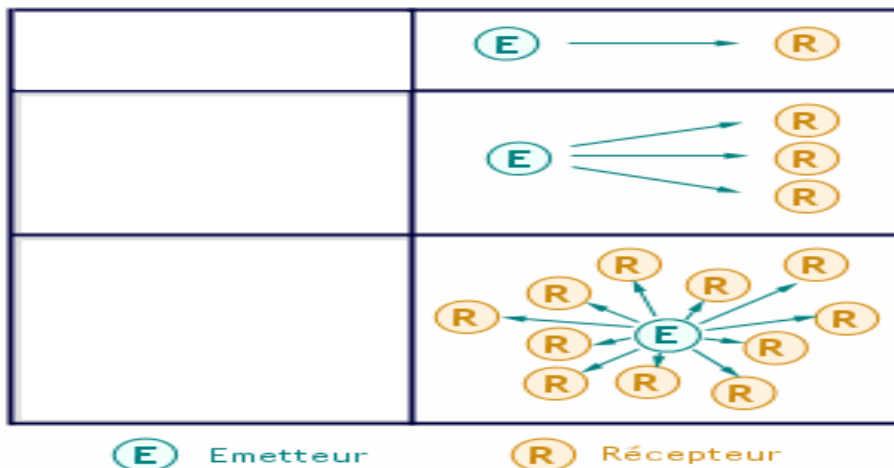
NB : Les réponses doivent être portées directement sur la feuille de sujet .Aucun document n'est autorisé.

Durée : 1h

Exercice1 : A. Complétez le schéma de communication par les entités correspondantes à chaque case :



B. Complétez le schéma suivant par les types de communications appropriés :



Exercice2 :

1. Citez les types d'auditoire cible lors d'une communication scientifique ?


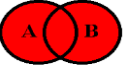

.....

Nom et Prénom :

2. Quelles sont les différentes étapes du cycle de l'information scientifique et technique "IST" dans le processus de l'activité scientifique ?

.....
.....

3. Complétez les cases suivantes par l'opérateurs logiques (booléens) correspondant ? :

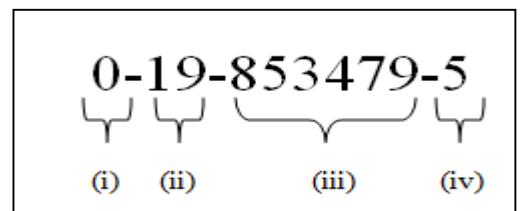
Intersection		<input type="text"/>
Union		<input type="text"/>
Exclusion		<input type="text"/>

Exercice3 : Répondez par vrais ou faux (V/F)

- 1. Un document primaire est créé à partir d'un ou de plusieurs document(s) secondaire (s).
- 2. L'ISSN (International Standard Serial Number) se compose de 9 chiffres .
- 3. Un annuaire est aussi une base de données. On l'appelle également « répertoire », « catalogue » ou « guide ».
- 4. Pour noter les références, le système Harvard utilise un classement alphabétique.
- 5. Le support utilisé pour faire passer le message (le canal) peut être la voix humaine.
- 6. Les moteurs de recherche identifient des sites organisés par catégories

Exercice 4 :

A. donner la signification de chaque segments du Numero ISBN a 10 chiffres suivant :



- (i)
- (ii)
- (iii)
- (iv)

***Chargé du module : M.K. BENKADDOUR
BON COURAGE***